

**ВСЕРОССИЙСКАЯ ОЛИМПИАДА ШКОЛЬНИКОВ ПО ОБЖ  
МУНИЦИПАЛЬНЫЙ ЭТАП  
2017–2018 УЧЕБНЫЙ ГОД  
10–11 КЛАССЫ**

22

Максимальное время выполнения заданий: 126 мин для мальчиков и 129 мин для девочек.

(90 мин теоретический тур+ 36 мин практический тур для мальчиков;  
90 мин теоретический тур+ 39 мин практический тур для девочек)

Максимальное количество набранных баллов: 200

**ТЕОРЕТИЧЕСКИЙ ТУР**

*Уважаемый участник Олимпиады!*

Вам предстоит выполнить теоретические и тестовые задания.

*Выполнение теоретических заданий целесообразно организовать следующим образом:*

- не спеша, внимательно прочитайте задание и определите, наиболее верный и полный ответ;
- отвечая на теоретический вопрос, обдумайте и сформулируйте конкретный ответ только на поставленный вопрос;
- если вы отвечаете на задание, связанное с заполнением таблицы или схемы, не старайтесь детализировать информацию, вписывайте только те сведения или данные, которые указаны в вопросе;
- особое внимание обратите на задания, в выполнении которых требуется выразить ваше мнение с учетом анализа ситуации или поставленной проблемы. Внимательно и вдумчиво определите смысл вопроса и логику ответа (последовательность и точность изложения). Отвечая на вопрос, предлагайте свой вариант решения проблемы, при этом ответ должен быть кратким, но содержать необходимую информацию;
- после выполнения всех предложенных заданий еще раз удостоверьтесь в правильности выбранных вами ответов и решений.

*Выполнение тестовых заданий целесообразно проводить следующим образом:*

- не спеша, внимательно прочитайте тестовое задание;
- определите, какой из предложенных вариантов ответа наиболее верный и полный;
- обведите кружком букву, соответствующую выбранному вами ответу;
- продолжайте, таким образом, работу до завершения выполнения тестовых заданий;
- после выполнения всех предложенных заданий еще раз удостоверьтесь в правильности выбранных вами ответов;
- если потребуется корректировка выбранного Вами варианта ответа, то неправильный вариант ответа зачеркните крестиком, а новый выбранный ответ обведите кружком.

Предупреждаем Вас, что:

- при оценке тестовых заданий, где необходимо определить *один правильный ответ*, 0 баллов выставляется как за неверный ответ, а также, если участником отмечены несколько ответов (в том числе правильный), или все ответы;
- при оценке тестовых заданий, где необходимо определить *все правильные ответы*, 0 баллов выставляется, если участником отмечены более 2-х ответов, или все ответы (в том числе правильные).
- Задание теоретического тура считается выполненным, если Вы вовремя сдаете его членам жюри.

*Желаем вам успеха!*

Общая оценка результата участника 90 баллов

**Председатель жюри теоретического тура** \_\_\_\_\_ ( \_\_\_\_\_ )

## ТЕОРЕТИЧЕСКИЕ ЗАДАНИЯ

### ТЕМАТИЧЕСКАЯ НАПРАВЛЕННОСТЬ «ОБЕСПЕЧЕНИЕ ЛИЧНОЙ БЕЗОПАСНОСТИ В ПОВСЕДНЕВНОЙ ЖИЗНИ»

#### ЗАДАНИЕ 1.

Заполните таблицу «Классификация ран по механизму нанесения повреждения и характеру ранившего предмета»

№	Вид раны	Характеристика раны
1	Резаные	раны, проходящие вналегу, и ранения в упор, которые повреждают ткани и органы, предмет острый (нож)
2	Колотые	
3	Рубленые	
4	Ушибленные	предмет может быть тупым, после удара могут быть гематомы, отеки, синяки, шинели.
5	Рваные	чаще всего от взрывов, когда часть тканей человека просто отрывается от тела
6	Раздавленные	под обломками зданий. Раздавленное внутри органы, кости, ткани, сосуды и т.д.

7	Скальпированные	
8	Отравленные	поражает чаще всего внутр. органы человека, ЦНС, печень, легкие, почки, симпатичу, органы пищеварения, кровеносную и т.д.
9	Укушенные	
10	Огнестрельные	двух типов: сквозное ранение и несквозное. При сквозном ранении пуля проходит через тело, оставляя сзади отверстие. При другом виде пуля остается в голове, в органе, ткани или кости.

Оценочные баллы: максимальный – 10 баллов; фактический 5 баллов.

Подписи членов жюри

### ЗАДАНИЕ 2.

Несчастные случаи в быту – основная причина травматизма детей и подростков. Перечислите меры безопасности, позволяющие снизить риск получения травм в домашних условиях по причине падения.

иметь дома мягкую мебель без острых и тупых углов (лучше закругленные), чтобы при ударе головой риск травмы был минимальным. Покрыть пол чтобы было не скользким, возможно, стелить ковра, чтобы риск поскользнуться был минимальным. Держать, если возможно вогнутые пороги дома. Если в доме маленькие дети, то не убирать радио и провода по полу, т.к. в случае если он за них попадет, то может упасть

Оценочные баллы: максимальный – 10 баллов; фактический 0 баллов.

Подписи членов жюри [подпись]

### ТЕМАТИЧЕСКАЯ НАПРАВЛЕННОСТЬ «ОБЕСПЕЧЕНИЕ ЛИЧНОЙ БЕЗОПАСНОСТИ В ЧРЕЗВЫЧАЙНЫХ СИТУАЦИЯХ»

#### ЗАДАНИЕ 3.

Живя в городе, человек привыкает пользоваться благами цивилизации. В природной среде всё иначе. Любое пребывание человека на природе требует от него определённой подготовки. Опишите что, на Ваш взгляд, должно входить в такую подготовку.

Человека должна быть выработана мгновенная важность, чтобы он смог обеспечить себе спокойное пребывание на природе (принести воду, приготовить еду, приготовить еду). Нужно быть психологически готовым к тому, что тебе нужно будет что-то сделать, чтобы себя прокормить. Важно уметь ориентироваться по местным знакам, иметь навыки за собой и заблудившись. Так же важно уметь оказывать первую помощь, мало ли что случится.

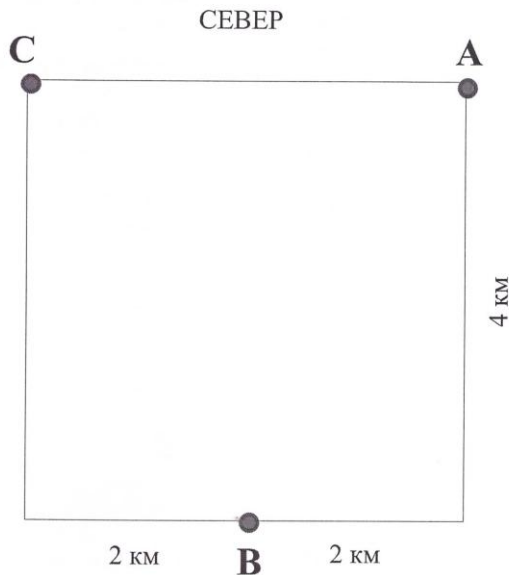
Оценочные баллы: максимальный – 10 баллов; фактический 3 баллов.

Подписи членов жюри [подпись]

#### ЗАДАНИЕ 4

Для того чтобы снизить вероятность попадания в чрезвычайную ситуацию на туристском маршруте, руководитель группы при подготовке к походу наносит на карту маршрут движения, определяет контрольные ориентиры и их азимуты (снятые с карты), рассчитывает протяженность маршрута. Представьте, что Вы – руководитель туристской группы, и по предложенному фрагменту карты (см. рисунок) определите:

1. Азимуты от объекта А на объект В, от объекта С на объект А.
2. Нанесите на карту самый короткий маршрут движения группы, зная что маршрут радиальный, начало маршрута в точке В и обязательно проходит через контрольные точки А и С.
3. Рассчитайте общую протяженность данного маршрута в километрах.



Значения азимутов:

АВ – \_\_\_\_\_

СА – \_\_\_\_\_

Протяженность маршрута \_\_\_\_\_ км

Оценочные баллы: максимальный – 5 баллов; фактический 0 баллов.

Подписи членов жюри \_\_\_\_\_

#### ЗАДАНИЕ 5.

Что делать, если вы оказались под завалами здания?

*Нужно определить какой метод освещения вы используете по отражению и земле. Кроме всего это сделать света достаточно много, если света не хватает, то земля где-то под вами. Использовать источники света (спички и зажигалки) не рекомендуется. Во-первых, вы тратите кислород, количество которого может быть ограничено, во-вторых при развале сооружения вполне можно пойти утечка газа и использовав зажигалку или спички, вы укорите свою жизнь. Если вас придавили обломки, то*

лучше не думать, иначе вы можете разрушить конструкцию, на которой держатся завалы и вас придавит. Кричать не стоит, вас могут не услышать, и вы трагиче- свои силы и кислород, лучше взять какой-нибудь крепкий предмет, если таковой имеется (капитель, камень) и попытаться ударить звуки, охвачен камнем о завалы. Этот звук рано или поздно может привлечь спасателей, которые будут разбираться завалы, а вам не мешать их поисками. Самостоятельно разбирать завалы внутри запрещается!

Оценочные баллы: максимальный – 10 баллов; фактический 2 баллов.

Подписи членов жюри

#### ТЕМАТИЧЕСКАЯ НАПРАВЛЕННОСТЬ «ГОСУДАРСТВЕННАЯ СИСТЕМА ОБЕСПЕЧЕНИЯ БЕЗОПАСНОСТИ НАСЕЛЕНИЯ»

##### ЗАДАНИЕ 6.

1. Дайте определение Единой государственной системе предупреждения и ликвидации чрезвычайных ситуаций (РСЧС).

Система, которая должна обеспечить безопасность жизни и здоровья людей в чрезвычайных ситуациях. Такими ситуациями могут быть: наводнения, пожары АХОВ, и т.д.

2. На рубеже веков меняется, и не в лучшую сторону, военно-политическая обстановка для России. Несмотря на снижение уровня военно-политического противостояния на международной арене, все же нельзя учитывать, что пока еще не созданы достаточно надежные гарантии необратимости позитивных тенденций. Военная опасность для России продолжает сохраняться, и при определенных условиях может перерасти в военные конфликты различной интенсивности.

Более того. Ряд военных специалистов и политологов прогнозируют в первом десятилетии XXI в. обострение военно-политической обстановки, рост военных угроз для России.

Главными возможными источниками военной опасности и военной угрозы для России сегодня может быть:

Нестабильная Украина, в которой идут междоусобицы между различными группами. Украинцы отрицают рождение и развитие нашей нации, пытаются перевернуть историю в свою пользу. Несмотря на то, что мы постоянно помогаем Украине, они нас винят в происшедших событиях на Украине, поэтому вероятность военных угроз исходит от них.

Так же неспокойна ситуация и в Сирии. Из-за санкций против нас, хотя сменился президент, ситуация не стабилизировалась. Так как наши солдаты отправлены в Сирию, где они так же сражаются против армии США, именно наши ресурсы расходуется, поэтому не исключена вероятность военного конфликта.

Ну и по сей день продолжаются военные конфликты в Чечне, которая хочет освободиться от влияния РФ. Террористы там не уходят и продолжают все время умирать в мирных условиях, устраивая массовые теракты.

Оценочные баллы: максимальный – 10 баллов; фактический 1 баллов.

Подписи членов жюри 

#### ЗАДАНИЕ 7.

1. Дайте определение «Обычное оружие».
2. Заполните таблицу «Характеристика обычных средств поражения».

1. Обычное оружие.

---

---

---

---

---

---

---

---

2. Характеристика обычных средств поражения.

№	Виды боеприпасов	Предназначение и поражающее действие
1	Осколочные боеприпасы	направленные на поражение небольшой группой противника, разрыв осколков.

2	Фугасный снаряд	
3	Кумулятивный снаряд	<i>направлен на уничтожение бронированной техники.</i>
4	Бетонобойный снаряд	<i>снаряд направлен преимущественно на уничтожение боевых машин противника (с толгой Дюпеля).</i>



5	Зажигательный снаряд	
6	Боеприпасы объемного взрыва (БОН)	
7	Высокоточное управляемое оружие	<i>направлено на поражение конкретной цели.</i>

Оценочные баллы: максимальный — 10 баллов; фактический 1 баллов.  
 Подписи членов жюри *[подпись]*






**ТЕСТОВЫЕ ЗАДАНИЯ**

10–11 классы

№	Тестовые задания	Макс. балл	Количество набранных баллов
<i>Определите один правильный ответ</i>			
1	<p><b>Международное право полностью запрещает перечисляемые средства ведения войны, за исключением:</b></p> <p>А) Любое оружие, основное действие которого заключается в нанесении повреждений осколками, которые не обнаруживаются в человеческом теле с помощью рентгеновских лучей и др.</p> <p>Б) Взрывчатые и зажигательные пули, пули, разворачивающиеся или сплюсцивающиеся в человеческом теле.</p> <p><input checked="" type="radio"/> В) Яды и отравленное оружие, удушливые, ядовитые и другие газы, жидкости и процессы.</p> <p>Г) Электромагнитное и электронное оружие и боеприпасы.</p>	1	—
2	<p><b>Дешифруйте аббревиатуру «ЕврАзЭС»</b></p> <p>А) Объединенная энергосистема Европы и Азии.</p> <p><input checked="" type="radio"/> Б) Евроазиатское экономическое сообщество.</p> <p>В) Евро-Азиатское сообщество энергопроизводителей.</p> <p>Г) Евро-Азиатское сообщество энергопотребителей.</p>	1	+
3	<p><b>Отметьте недостающую строку в приводимом четверостишье Государственного Гимна РФ:</b></p> <p><b>«Широкий простор для мечты и для жизни Грядущие нам открывают года.</b></p> <hr/> <p><b>Так было, так есть и так будет всегда!»</b></p> <p>А) Братских народов союз вековой.</p> <p>Б) Могучая воля, великая слава —</p> <p><input checked="" type="radio"/> В) Нам силу даёт наша верность Отчизне.</p> <p>Г) Одна ты на свете! Одна ты такая —</p>	1	+
4	<p><b>Какой из перечней отображает классификацию травм по локализации повреждения</b></p> <p><input checked="" type="radio"/> А) Закрытые, открытые.</p> <p>Б) Легкая травма, травма средней тяжести, тяжелая травма.</p> <p>В) Тендиниты, растяжения связок, бурсит, суставные мьши, перелом, ушибы.</p> <p>Г) Изолированные, множественные, сочетанные, комбинированные.</p>	1	—
5	<p><b>Что делать, если вы попали в перестрелку на улице?</b></p> <p>А) Залягте и осмотритесь, не паникуйте, выберите ближайшее укрытие и проберитесь к нему, не поднимаясь в полный рост. Укрытием могут служить выступы зданий, памятники, бетонные столбы, бордюры, канавы и т. д. При первой возможности спрячьтесь в подъезде, в подземном</p>	1	



	<p>Синрике».</p> <p><input checked="" type="radio"/> Местная религиозная организация Свидетелей Иеговы «Красноярск».</p>		✓
10	<p><b>Желтый мигающий сигнал светофора:</b></p> <p>А) Запрещает движение на участке с неисправным светофором.</p> <p>Б) Не регламентировано.</p> <p>В) Информировывает о препятствии.</p> <p>Г) Разрешает движение и информирует о наличии нерегулируемого перекрестка или пешеходного перехода, предупреждает об опасности.</p>	1	—
11	<p><b>День воинской славы 2 февраля 1943 года установлен в честь</b></p> <p>А) Дня победы русской эскадры под командованием П. С. Нахимова над турецкой эскадрой у мыса Синоп.</p> <p><input checked="" type="radio"/> Б) Дня разгрома советскими войсками немецко-фашистских войск в Сталинградской битве.</p> <p>В) Дня победы русской армии под командованием Петра Первого над шведами в Полтавском сражении.</p> <p>Г) Дня взятия турецкой крепости Измаил русскими войсками под командованием А. В. Суворова.</p>	1	+
12	<p><b>Отметьте правильные действия при оказании доврачебной помощи при носовом кровотечении</b></p> <p><input checked="" type="radio"/> А) Голову пострадавшего наклоняют вперед, а на нос в область переносицы прикладывают холод.</p> <p>Б) На рану накладывают стерильную салфетку, далее толстый слой ваты и все это фиксируют одной из специальных повязок.</p> <p>В) Если пострадавший находится без сознания, то его укладывают на бок и транспортируют в этом же положении.</p> <p>Г) Для ослабления кровотечения накладывается пластырь с тампоном, пострадавший укладывается на спину и транспортируется в лечебное учреждение</p>	1	+
13	<p><b>Военной контрабандой признаются:</b></p> <p>А) Грузы, определяемые ООН специальным списком, признаваемые таковыми к каждому военному конфликту конкретно.</p> <p><input checked="" type="radio"/> Б) Грузы нейтральных собственников или противника на судах нейтральных государств, которые воюющая сторона запрещает доставлять своему противнику.</p> <p>В) Сырьевые и товарные грузы, которые в дальнейшем могут быть применены для военного производства или военных действий стороной-противником.</p> <p>Г) Грузы перевозимые на кораблях военного флота.</p>	1	+
14	<p><b>Отметьте дату создания МПВО, преемницей которой стала Гражданская оборона.</b></p> <p>А) 4 октября 1932 года.</p> <p>Б) 7 ноября 1917 года.</p> <p><input checked="" type="radio"/> В) 20 октября 1939 года.</p> <p>Г) 1 января 1700 года.</p>	1	—

15	<p>Выберите из перечисленного тип боеприпасов, предназначенный для уничтожения преимущественно пехоты и легкобронированных целей.</p> <p>А) Кумулятивный.  Б) Бронебойный.  В) Осколочный.  Г) Бетонобойный</p>	1	
16	<p>Сколько звезд на погонах прапорщика, лейтенанта, подполковника, генерал-лейтенанта?</p> <p>А) По две на каждом.  Б) По три на каждом.  В) По одной на каждом.  Г) По четыре на каждом.</p>	1	
17	<p>Колонна велосипедистов должна быть разделена на группы по 10 велосипедистов в случае однорядного движения либо на группы по 10 пар в случае двухрядного движения. Для облегчения обгона расстояние между группами должно составлять:</p> <p>А) 30-40 метров.  Б) 80-100 метров.  В) 10-20 метров.  Г) не регламентируется.</p>	1	
18	<p>Граждане, пребывающие в запасе, подразделяются на разряды по предельным возрастам:  Отметьте неверное, лишнее.</p> <p>А) Первый разряд – солдаты, старшины, прапорщики и мичманы до 35 лет, младшие офицеры до 45 лет.  Б) Второй разряд – солдаты, старшины, прапорщики и мичманы до 45 лет, младшие офицеры до 50 лет.  В) Третий разряд – солдаты, старшины, прапорщики и мичманы до 50 лет, младшие офицеры до 55 лет.  Г) Четвертый разряд – женщины-военнообязанные, пребывающие в запасе.</p>	1	
19	<p>В задачи этих войск входят разведка обстановки в районах чрезвычайных ситуаций, ведение спасательных и аварийно-восстановительных работ, оказание медицинской помощи и эвакуация пострадавших, а также жизнеобеспечение населения. Войска включают в себя спасательные бригады, механизированные полки и батальоны, роты специальной защиты и вертолетные отряды.</p> <p>А) Внутренние войска Министерства Внутренних Дел Российской Федерации.  Б) Войска Гражданской обороны Российской Федерации.  В) Части и подразделения обеспечения и обслуживания.  Г) Инженерные войска.</p>	1	
20	<p>В соответствии со ст. 37 Дополнительного протокола I 1977 г. к Женевским конвенциям «Не относятся к фактам «вероломства»</p> <p>А) симулирование намерения вести переговоры под флагом перемирия.</p>	1	

	Б) симулирование капитуляции. В) вводящие противника в заблуждение действия (маскировка, дезинформация и др.). Г) симулирование выхода из строя вследствие ранения или болезни.		+
--	---	--	---

06 М-14

## Карточка практического тура

Название секции	Номер задания	Количество баллов	Время прохождения
Оказание первой помощи пострадавшему	№ 1	10	2 мин
	№ 2	10	3, 00 мин
Полоса выживания	№ 3	13	
	№ 4	15	1 мин
Действия в ЧС	№ 5	10	
	№ 6	10	1 мин.
Основы военной службы	№ 7	10	23 сек.
	№ 8	0	1 мин 30 сек
	№ 9	3	2 мин.
	№ 10	2	5 мин

83

15,26