

Г-8

52

Задания муниципального этапа для 9 класса
в 2017/2018 учебном году

Уважаемый участник олимпиады! Вашему вниманию предлагаются задания тестового и теоретического туров, на выполнение которых отводится 180 минут (на тестовый тур – 60 минут и теоретический – 120 минут).

Тестовый тур включает 20 вопросов, каждый из которых содержит один или несколько элементов ответов и оценивается определенным количеством баллов (от 0,5 до 1,5 баллов). Общая оценка ответов на вопросы тестового тура представляет собой сумму баллов за отдельный вопрос и максимально составляет 30 баллов.

Теоретический тур включает задания различной степени сложности. Каждый элемент заданий оценивается определенным количеством баллов (от 2,0 до 4,0 баллов). Общее количество заданий составляет 5, максимальное количество баллов за правильные ответы – 70 баллов.

При ответах на вопросы тестового тура и заданий теоретического тура запрещается пользоваться географическими картами, атласами, словарями и справочными материалами. При себе нужно иметь транспортир, линейку и карандаш.

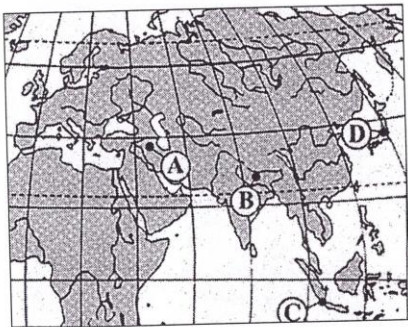
Тестовый тур

1. Началом эпохи Великих географических открытий считают плавание
а) Васко да Гамы
б) Христофора Колумба
в) Фернана Магеллана
г) Афанасия Никитина — 0
2. По каким морям проходило «хождение за три моря» Афанасия Никитина в 1471-1474 гг.?
а) Азовское
б) Аравийское
в) Каспийское
г) Черное 3
3. За 3 часа Земля поворачивается вокруг своей оси на
а) 20°
б) 30°
в) 45°
г) 90° 1,5
4. Какое соответствие «горная порода – ее тип» является верным?
а) мрамор - метаморфическая
б) гранит - осадочная —
в) базальт - метаморфическая
г) известняк - магматическая — 1,5
5. Минерал ... служит рудой для получения ртути
а) киноварь
б) боксит -
в) опал -
г) галенит 0
6. Подводные горные хребты Ломоносова и Менделеева пересекают в срединной части океан
а) Атлантический
б) Индийский
в) Северный-Ледовитый
г) Тихий 1,5

7. Выделите флористический объект, относящийся к прериям

- а) бутылочное дерево
- б) акация —
- в) древовидные кактусы —
- г) бизонова трава (бухлоз) **Р**

8. Буквой С на карте обозначен пролив



Магелланский пролив

- а) Зондский
- б) Дэвисов —
- в) Гибралтарский —
- г) Магелланов — **1,5**

9. На реке Чурун в бассейне Ориноко находится самый высокий на Земле водопад

- а) Игуасу
- б) Стенли
- в) Анхель **1**
- г) Ливингстона

10. Территория, какого из перечисленных ниже государств расположена исключительно на островах?

- а) Уругвай —
- б) Кабо-Верде —
- в) Гвинея-Бисау **0**
- г) Тайланд —

11. Закономерное специфическое сочетание взаимосвязанных компонентов природы на определенной территории называют

- а) природной средой
- б) растительным сообществом —
- в) природно-территориальным комплексом **0,5**
- г) географической оболочкой —

12. Самые высокие деревья на Земле, древесина которых очень твердая и не поддается гниению, преобладают в переменном-влажных лесах Австралии.

- а) акации —
- б) бутылочные деревья —
- в) пальмы —
- г) эвкалипты **1**

13. Компоненты природы, используемые человеком в своей деятельности, называют

- а) природными условиями —
- б) природными ресурсами **1,5**
- в) антропогенными ландшафтами —
- г) окружающей средой —

14. Какие моря относятся к бассейну Тихого океана?

- а) Карибское и Черное –
- б) Аравийское и Красное –
- в) Белое и Берингово –
- г) Филиппинское и Южно-Китайское

0,5

15. Какие три культуры обеспечивают более 75% мирового сбора зерновых?

- а) кукуруза, пшеница, рис
- б) ячмень, кукуруза, пшеница
- в) рожь, рис, кукуруза
- г) пшеница, рожь, кукуруза

1,5

16. Укажите страну-лидера по пассажирообороту железнодорожного транспорта

- а) Россия
- б) США –
- в) Япония –
- г) Франция –

0

17. Медно-никелевые руды добывают в

- а) Нерюнгри –
- б) Норильске
- в) Бодайбо –
- г) Нерчинске –

1

18. Что означает название гор Памир?

- а) «Крыша мира»
- б) «Пояс»
- в) «Каменная стена»
- г) «Небесные горы»

1,5

19. Прочтите краткое описание страны. Как называется эта страна и почему ее называют «землей зеленого золота» и «землей золотых плодов»?

Эту страну называют «землей зеленого золота» и «землей золотых плодов». По площади и численности населения это самая большая страна на материке Южного полушария, по ее территории протекает крупнейшая река мира.

20. Это единственная область России, границы которой выходят к трем европейским государствам. Главными демографическими проблемами являются - низкий естественный прирост населения и старение населения. Областной центр – один из старейших городов нашей страны – является крупным туристическим центром.

Теоретический тур

Задание 9.1. Прочтите заявку города на проведение Олимпийских игр 2022 года и ответьте на вопросы:

Назовите город, подавший заявку?

Назовите государство, где он расположен и его столицу?

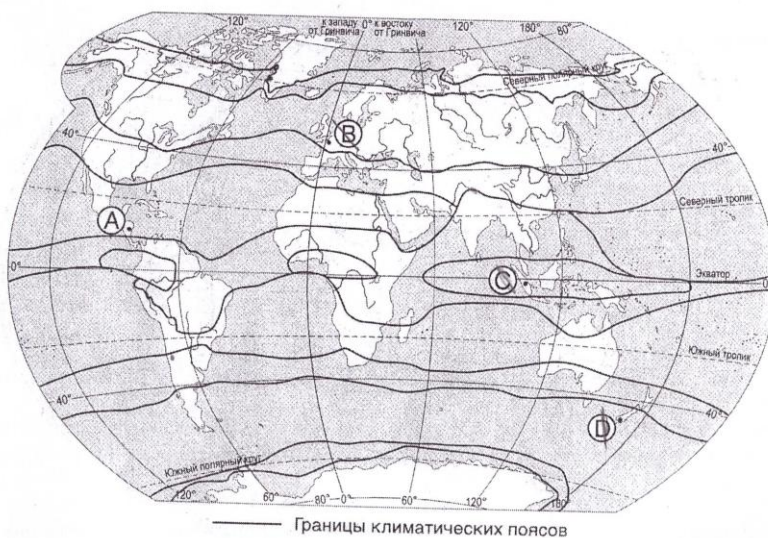
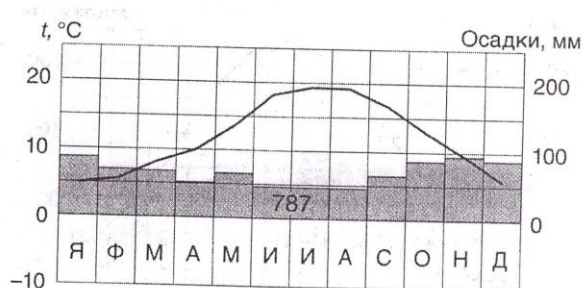
Назовите государство, расположенное на том же острове и его столицу?

Назовите, между какими религиозными группами надеются преодолеть разногласия организаторы игр?

«Наш город, хотя и далеко не крупнейший в стране, все же второй по численности населения на своем острове и уступает лишь столице соседнего государства. Мы будем рады принять у себя Олимпийские игры и мы искренне надеемся, что политические и религиозные разногласия, разделяющие город уже долгое время, наконец-то уйдут в прошлое. Уже сейчас политики двух крупнейших партий нашего парламента придерживающиеся, как известно, диаметрально противоположных взглядов, совместно выступили за проведение олимпийских игр в нашем городе.

Представление заявки нашего города населению прошло в музее «Титаника» и было встречено огромным оптимизмом со стороны жителей города».

Задание 9.2. Проанализируйте климатограмму и определите, какой буквой на карте обозначен пункт, характеристики климата которого отражены в климатограмме. В каком климатическом поясе и климатической области расположен пункт наблюдения.



Задание 9.3. Расположите в направлении с севера на юг следующие географические объекты и заполните таблицу: а) г. Аконкагуа, б) о. Баффинова Земля, в) Большие Антильские острова, г) Гудзонов пролив, д) пролив Дрейка, е) Нью-Йорк, ж) о. Ньюфаундленд, з) Патагония, и) оз. Титикака, к) г. Чимборасо.

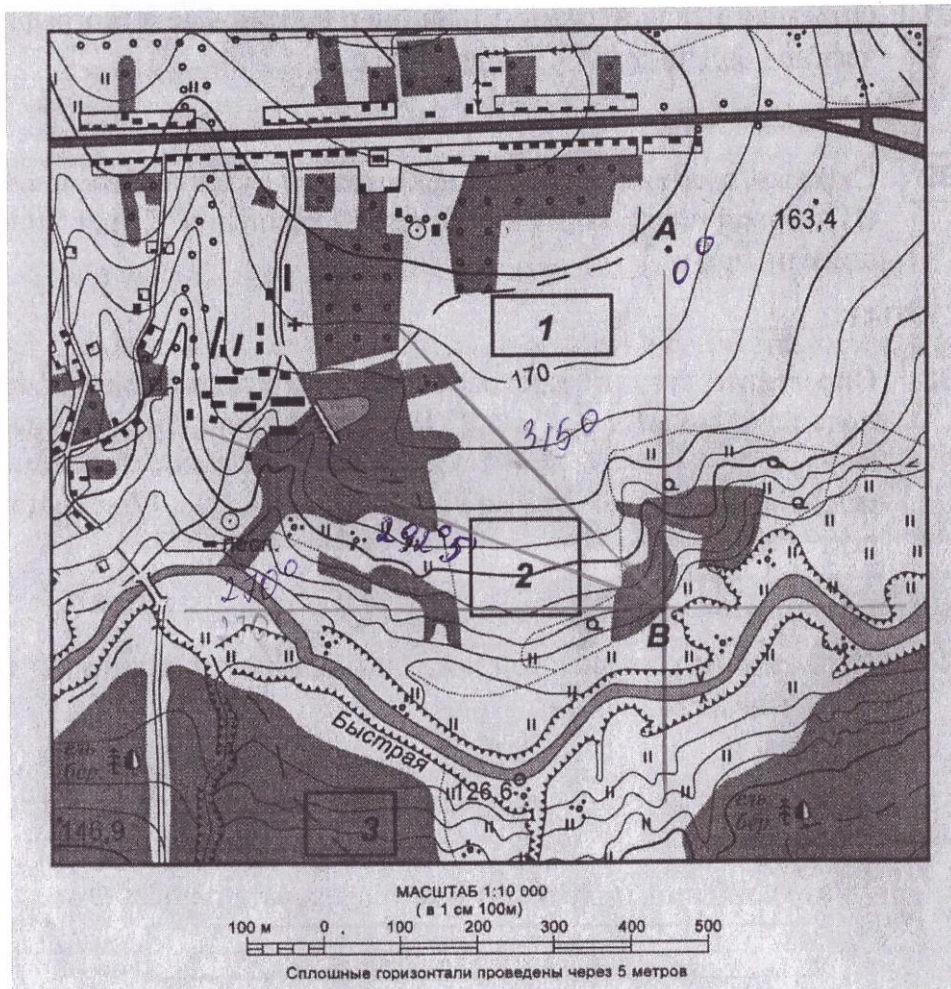
Таблица 9.3.

Географический объект	1	2	3	4	5	6	7	8	9	10
Расположение географического объекта с севера на юг (арабскими цифрами)	5	2	ж	е	в	к	и	а	з	г

2 2 2 2 2 2 2 2 2 2

20.


- Задание 9.4.** Ознакомьтесь с картой, указанной на рисунке и выполните следующие задания:
- Определите по карте расстояние на местности по прямой линии от точки А до домика лесника. Полученный результат округлите до десятков метров. Ответ запишите цифрами.
 - Определите по карте азимут, по которому надо идти от точки В до домика лесника. Ответ запишите цифрами.
 - Оцените, какой из участков, обозначенных на карте цифрами 1,2,3, наиболее подвержен действию водной эрозии почв. Для обоснования своего ответа приведите не менее двух доводов.




Задание 9.5. На фотографиях представлены достопримечательности г. Красноярска. Назовите их и где они расположены?



1



2



3

Г-8

ОТДЕЛ
ОБРАЗОВАНИЯ
АДМИНИСТРАЦИИ
ПЛОТВСКОГО РАЙОНА

ул. Кирова, д. 73
с. Пухотер, 662010
Красноярский край
тел./факс: (258) 2-14-75
E-mail: Tuhtet_ruo@gross-edu.ru
ОКПО 02100958
ОГРН 1022401223250
ИНН 2438000343
КПП 243801001

_____.200____. № ____
На № ____ от _____.200____

№19.
Страны - Бразилия. 1,5

Бразилию называют "землей зеленого золота", потому что в Бразилии находят много ценное непроходимое лес, сельва. 1,5

Бразилию называют "землей зеленого золота", поскольку в Бразилии растет много фруктов, плодов, которые ~~не~~ растут, в других экваториальных странах, в больших количествах. 0

№20.

Леновская область. 1,5
Областной центр - город Ленков.

а) Теоретический тур.

Задание 9.1. 0

- 1) Косара 0
- 2) Китай- Пекин 0
- 3) КИПР - Никосия 0
- 4) между последователями разных течений Буддизма. 0

Задание 9.2. 0

А) Пронический поле. Область умеренного климата.
Задание 9.4.

- А) 6,1 см \Rightarrow 610 метров (по шкале, представленному ните карты)
- Б) масштаб карты растянут, азимут сбит.
Читывая большую растянутую карту, азимут $\approx 292^{\circ} 5'$

38

В) 1 участок бассейна утесов, т.к. его поверхность
равнинная, 3 участка находятся в зоне леса → деревья корнями
удерживают почву. 2 участка подвержены действию водной
эрозии, к тауну не располагается на склоне. 38

Задача 9.5.

1) Находится - Проект мира 3.

Восприимчивость - 0

2) Находится -

Восприимчивость -

3) Находится -

Восприимчивость - мест 777 0.

$$\begin{array}{r} 23 \\ + 29 \\ \hline 52 \end{array}$$

$$\begin{array}{r} 145 \\ - 125 \\ \hline 20 \end{array}$$